

KOD

--	--	--

DATA URODZENIA UCZNIĄ

dni		miesiąc		Rok		

Miejsce
na naklejkę
z kodem

dysleksja


PRZYKŁADOWY SPRAWDZIAN
W SZÓSTEJ KLASIE
SZKOŁY PODSTAWOWEJ
„Fryderyk Chopin”

Instrukcja dla ucznia



1. Sprawdź, czy zestaw egzaminacyjny zawiera 7 stron. Ewentualny brak strony lub inne usterki zgłoś nauczycielowi.
2. Na tej stronie i na karcie odpowiedzi wpisz swój kod i datę urodzenia
3. Czytaj uważnie wszystkie teksty i zadania.
4. Rozwiązania zapisuj długopisem albo piórem z czarnym tuszem lub atramentem. Nie używaj korektora.
5. W zadaniach od 1 do 20. są podane cztery odpowiedzi: A, B, C, D. Odpowiada im następujący układ kratek na karcie odpowiedzi:

A	B	C	D
---	---	---	---

6. Wybierz tylko jedną odpowiedź i zamaluj kratkę z odpowiadającą jej literą – np. gdy wybrałeś odpowiedź „A”

	B	C	D
---	---	---	---

7. Staraj się nie popełniać błędów przy zaznaczeniu odpowiedzi, ale jeśli się pomylisz, błędne zaznaczenie otocz kółkiem i zaznacz inną odpowiedź

	B	C	
---	---	---	---

8. Rozwiązania zadań od 21. do 25. zapisz czytelnie i starannie w wyznaczonych miejscach. Pomyłki przekreślaj.
9. Ostatnia strona arkusza jest przeznaczona na brudnopis. Zapisy w brudnopisie nie będą sprawdzane.

Powodzenia!

6 marca 2008 r.

**Czas pracy:
60 minut.**

**Liczba punktów
do uzyskania:
40**

Fryderyk Franciszek Chopin urodził się 1 marca (za mniej pewną datę uważa się obecnie 22 lutego) 1810 roku w Żelazowej Woli niedaleko Warszawy, zmarł 17 października 1849 roku w Paryżu.

Przyszedł na świat w rodzinie, w której muzyka była na porządku dziennym. Ojciec Mikołaj, rodzony we Francji, osiadł w Polsce na stałe już w wieku 16 lat i spędził tu resztę swojego życia. Początkowo był guwernerem, a po przenosinach z Żelazowej Woli do Warszawy wykładowcą języka i literatury dla synów z najwybitniejszych polskich rodów arystokratycznych.

Najwybitniejszy polski kompozytor, a także wybitny pianista. Nazywany jest poetą fortepianu. Choć należy do najbardziej lubianych kompozytorów muzyki fortepianowej, jego dzieła wymagają od wykonawcy znakomitego warsztatu, a nawet wirtuozerii. U źródeł jego twórczości leżała wielka wrażliwość oraz umiejętność czerpania wzorców wprost z polskiej muzyki ludowej.

Od 1927 roku odbywa się w Polsce Międzynarodowy Konkurs Pianistyczny im. Fryderyka Chopina, najstarszy na świecie monograficzny konkurs muzyczny.

www.wikipedia.pl

1. Życie Fryderyka Chopina przypadło na:

- A. pierwszą połowę XVIII wieku.
- B. pierwszą i drugą połowę XVIII wieku.
- C. pierwszą połowę XIX wieku.
- D. pierwszą i drugą połowę XIX wieku.

2. Chopin żył:

- A. 16 lat.
- B. 29 lat.
- C. 39 lat.
- D. 49 lat.

3. Nazwisko „Chopin” ma obce brzmienie, ponieważ:

- A. ojciec Fryderyka pochodził z Niemiec.
- B. ojciec Fryderyka pochodził z Francji.
- C. była wtedy moda na obce nazwiska wśród polskich rodów arystokratycznych.
- D. Fryderyk ostatnią część życia spędził we Francji.

4. Fryderyk Chopin zdobył sławę jako:

- A. poeta i pianista.
- B. poeta i kompozytor.
- C. pianista i kompozytor.
- D. Patron Międzynarodowego Konkursu Pianistycznego.

5. Nazwanie Chopina *poetą fortepianu* jest:

- A. przenośnią.
- B. porównaniem.
- C. epitetem.
- D. komplementem.

6. Twórczość Chopina nawiązywała do:

- A. poezji.
- B. kultury francuskiej.
- C. polskiej muzyki ludowej.
- D. Tradycji rodów arystokratycznych.

7. Międzynarodowy Konkurs Pianistyczny im. Fryderyka Chopina pierwszy raz odbył się:

- A. 39 lat po śmierci kompozytora.
- B. 78 lat po śmierci kompozytora.
- C. 100 lat po śmierci kompozytora.
- D. 117 lat po śmierci kompozytora.

8. Najlepsze wyjaśnienie znaczenie słowa „wirtuozeria” znajdziesz:

- A. w słowniku wyrazów obcych.
- B. w słowniku wyrazów bliskoznacznych.
- C. w słowniku ortograficznym.
- D. w encyklopedii.

9. Wykonywanie utworów Chopina wymaga:

- A. zainteresowanie literaturą i poezją.
- B. znajomość polskiej muzyki ludowej.
- C. wielkiej wrażliwości.
- D. wysokich umiejętności.

W Żelazowej Woli (fragment)

*W Żelazowej Woli drzewa wysokie,
W Żelazowej Woli malwy u okien,
biały dworek stoi nad rzeczką.*

- Czy to tutaj?

- Tutaj, córeczko.

*Tu śpiewała lipowa kołyska,
tutaj wiatr grał piosenki na listkach,
tutaj malwy nuciły niebiesko.*

- Tak jak teraz?

- Jak teraz córeczko?

W. Chotomska, W Żelazowej Woli [w:] Język polski, Przyjaciel na zawsze.
Podręcznik do klasy IV, cz. 1, Warszawa 2001, s. 174.

10. Fragment wiersza Wandy Chotomskiej zbudowany jest na zasadzie:

- A. monologu.
- B. dialogu
- C. opisu.
- D. powiadania.

11. Z wiersza możemy wywnioskować, że córeczka:

- A. chce się dowiedzieć jak najwięcej o życiu Chopina.
- B. podziwia barwy kwiatów.
- C. zachwyca się pięknem krajobrazu.
- D. jest wrażliwa na dźwięki przyrody

Wyposażenie pracowni muzycznej

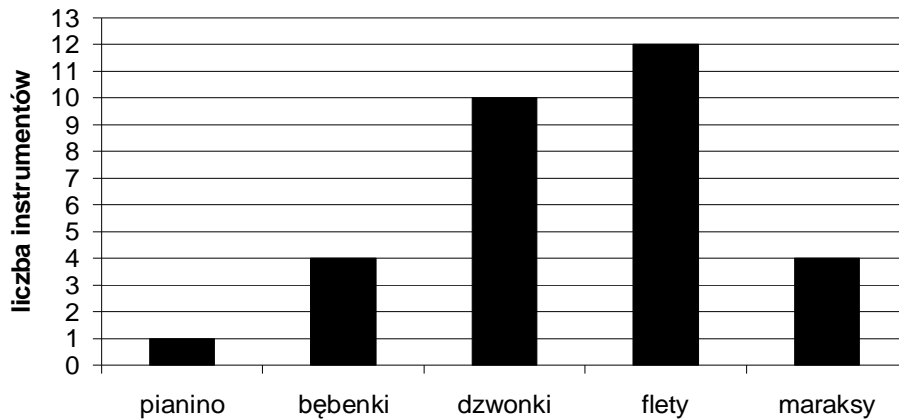
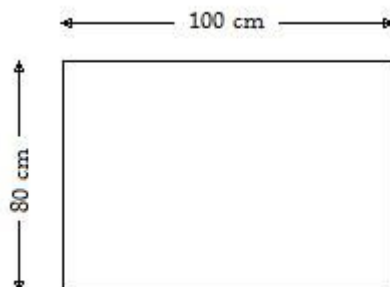


Diagram przedstawia wyposażenie szkolnej pracowni muzycznej w instrumenty. Ucząca się tam klasa liczy 32 uczniów.

12. Na podstawie diagramu oblicz, ile jest łącznie instrumentów w pracowni.
- A. 12 B. 27 C. 30 D. 31
13. Ilu uczniów pozostanie bez instrumentów, kiedy wszystkie zostaną rozdane? Pamiętaj, że na pianinie gra nauczyciel.
- A. 1 B. 2 C. 3 D. 4
14. Bębrenki i marakasy należą do instrumentów perkusyjnych. Podaj w procentach, jaka część uczniów klasy może grać na instrumentach perkusyjnych.
- A. 20% B. 25% C. 33,3% D. 40%
15. Ile razy więcej jest dzwonek niż bębrenek?
- A. Dwa i pół razy więcej.
B. Trzy razy więcej.
C. Trzy i pół razy więcej.
D. Cztery razy więcej.
16. W pracowni muzycznej jest 5 księzek z utworami Chopina, 12 księzek z pieśniami patriotycznymi i 18 księzek z pieśniami ludowymi. Jaką część tych księzek stanowią książki z utworami Chopina?
- A. $\frac{1}{5}$ B. $\frac{1}{7}$ C. $\frac{5}{12}$ D. $\frac{5}{30}$
17. Na tablicy korkowej o wymiarach 100cm x 80cm masz przypiąć portrety wybitnych kompozytorów. Każdy portret ma wymiary 21cm x 30cm. Każdy oczywiście, musi wisieć pionowo. Ile najwięcej portretów możesz przypiąć?

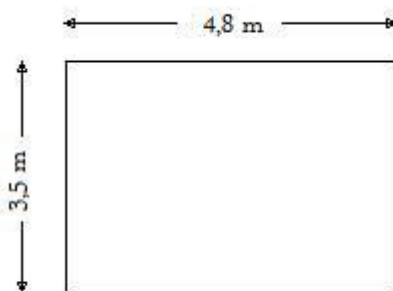


- A. 8 B. 10 C. 16 D. 24

18. Klasa (32 osoby) planuje wycieczkę do Żelazowej Woli. Koszt przejazdu na 1 osobę wyniesie 15,50 zł, wyżywienie 20 zł, ubezpieczenie 15 zł, a zwiedzanie muzeum Chopina 2 zł. Ile razem pieniędzy musi zebrać skarbnik klasowy?
- A. 640 zł B. 1520 zł C. 1550 zł D. 1680 zł
19. W przypadku opisanym w poprzednim zadaniu, ile razem pieniędzy należy zapłacić za bilety do muzeum?
- A. 32 zł B. 51 zł C. 53 zł D. 64 zł
20. Rada Rodziców zdecydowała się dofinansować wycieczkę, o której mowa w dwóch poprzednich zadaniach. Może ona pokryć 80% kosztów wyżywienia albo w całości jedną z pozostałych pozycji wydatków. Jaki wybór doradzisz koleżankom i kolegom?
- A. Opłacenie przejazdów.
 B. Opłacenie 80% kosztów wyżywienia.
 C. Opłacenie ubezpieczenia.
 D. Opłacenie biletów do muzeum
21. Masz poinformować rodziców o kosztach Twojego udziału w wycieczce do Żelazowej Woli. Zapisz koszty podane w zadaniu 18 w tabelce.

Rodzaj wydatków	Wysokość wydatków
Razem:	

Po wycieczce do Żelazowej Woli postanowiliście urządzić w szkole izbę pamięci Fryderyka Chopina. Dyrektor wskazał wam pomieszczenie o kształcie prostokąta i wymiarach 4 m 80 cm x 3 m 50 cm. Trzeba tam tylko położyć wykładzinę dywanową



22. Wykładzina, którą wybraliście w sklepie, jest dostępna w belach o szerokości 4 m i 5 m. Metr kwadratowy tak jednej jak i drugiej kosztuje 15 zł. Ustaliliście, że wykładzinę należy położyć w jednym kawałku, bez łączenia kawałków na podłodze, jedynie odcinając zbędne części.
- 1) Którą wykładzinę należy kupić, żeby zapłacić jak najmniej?
 - 2) Ile będzie kosztował kawałek wybrany na pokrycie podłogi?
 - 3) Jak długi kawałek musi odciąć z beli sprzedawca?
 - 4) Ile złotych można zaoszczędzić na trafnym wyborze szerokości?

Odpowiedzi:

- 1) Trzeba wybrać wykładzinę o szerokości m.
- 2) Wybrany kawałek będzie kosztował zł.
- 3) Sprzedawca musi odciąć z beli kawałek o długości m.
- 4) Na trafnym wyborze można zaoszczędzić zł

23. Po położeniu wykładziny w miejscu jej zetknięcia ze ścianą należy zamocować plastikową listwę ozdobną. Listwa jest sprzedawana w trzymetrowych odcinakach, które można ciąć i łączyć. Ile takich odcinków trzeba kupić, jeżeli drzwi wejściowe mają szerokość 80 cm?

Zapisuj wszystkie obliczenia.

Odpowiedź:

Trzeba kupić odcinków listwy.

